

2 上 總結性評估

(包含二年級上學期的學習內容)

建議時間：40 分鐘

姓名：_____

班別：_____ ()

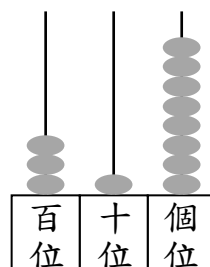
日期：_____

成績：_____ / 62

① 在 904 這個數中，「9」是在 百 位。 (1 分)

② 用中國數字寫出右面算柱所表示的數。 (1 分)

答案：三百一十八



③ 用三張數卡 **6**、**2**、**7** 組成四個不同並小於 700 的三位數，然後把它們由大至小排列出來。 (1 分)

答案：672，627，276，267 全對才給分
(最大) (最小)

④ 依規律填填看。

(a) 200，300，400，500，600，700 全對才給分 (1 分)


(b) 650，625，600，575，550，525 全對才給分 (1 分)

⑤ 1 箱橙有 50 個。

(a) 3 箱橙有 150 個。 (1 分)

(b) 4 箱橙有 200 個。 (1 分)

(c) 7 箱橙有 350 個。 (1 分)



⑥ $589 + 307 = \underline{896}$ (1 分)

⑦ $419 + 272 = \underline{691}$ (1 分)

⑧ $56 + 171 + 98 = \underline{325}$ (1 分)

⑨ $172 + 292 + 510 = \underline{974}$ (1 分)

⑩ $87 - 78 = \underline{9}$ (1 分)

⑪ $60 - 14 = \underline{46}$ (1 分)

⑫ $48 - 14 - 12 = \underline{22}$ (1 分)

⑬ $88 - 17 - 31 = \underline{40}$ (1 分)

⑭ $8 \times 5 = \underline{40}$ (1 分)

⑮ $6 \times 7 = \underline{42}$ (1 分)

⑯ $1 \times 12 = \underline{12}$ (1 分)

⑰ $29 \times 0 = \underline{0}$ (1 分)

⑱ $10 \times 7 = 7 \times \underline{10} = \underline{70}$ 全對才給分 (1 分)

⑲ 在空格內填上正確的數字。

(a)
$$\begin{array}{r} \boxed{4} \ 6 \ \boxed{5} \\ + \ 4 \ \boxed{0} \ 4 \\ \hline 8 \ 6 \ 9 \end{array}$$
 全對才給分 (1 分)

(b)
$$\begin{array}{r} 7 \ \boxed{3} \\ - \ \boxed{5} \ 6 \\ \hline 1 \ 7 \end{array}$$
 全對才給分 (1 分)

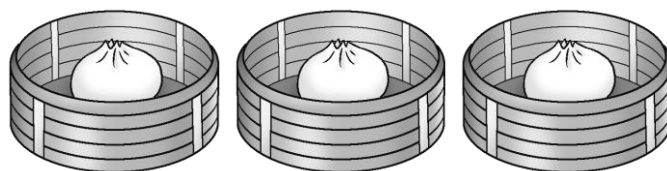
⑳ 雪糕店上星期售出 298 杯雪糕，本星期售出 122 杯，這兩星期共售出雪糕 420 杯。 (1 分)

⑳ 一盒曲奇有 68 塊，吃去一些後，還有 29 塊，即吃去曲奇 39 塊。 (1 分)

㉑ 一枝原子筆售 4 元，墨水筆的售價是原子筆的 5 倍，一枝墨水筆售 20 元。 (1 分)

㉒ 右圖共有叉燒包多少個？ (2 分)

$$\underline{1} \times \underline{3} \text{ 列式 1 分}$$
$$= \underline{3}$$



共有叉燒包 3 個。 答案 1 分

㉓ 心悅 身高 147 厘米，卓華 比她矮 29 厘米。
卓華 身高 118 厘米。 (1 分)

㉔ 全港共有 423 間萬有超級市場，分佈如下：

地區	新界	九龍	香港島
數量 (間)	239	106	?

香港島 區有 萬有超級市場 多少間？(列式計算) (3 分)

$$423 - 239 - 106$$
$$= 184 - 106$$
$$= 78$$

香港島 區有 萬有超級市場 78 間。

②⑥ 表姐每星期兼職工作 3 天，她四星期共工作多少天？

(列式計算)

(3 分)

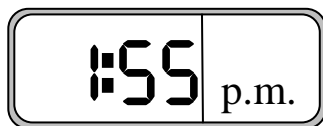
$$\begin{aligned} & 3 \times 4 \\ & = 12 \\ & \text{她四星期共工作 } 12 \text{ 天。} \end{aligned}$$

②⑦ 麵包師傅每小時製作 6 盆麵包。他在下午二時至下午五時這段時間內，共製作了麵包多少盆？(列式計算)

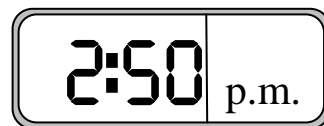
(3 分)

$$\begin{aligned} & 6 \times 3 \\ & = 18 \\ & \text{共製作了麵包 } 18 \text{ 盆。} \end{aligned}$$

②⑧ 下面的時鐘顯示運動員的練習時間。



開始時間



結束時間

(a) 運動員在 下 午 1 時 55 分開始練習。 全對才給分 (1 分)

(b) 他共練習了 55 分鐘。 (1 分)

②⑨ 一段影片由  開始播放，共播放了 13 分鐘。

影片在 下 午 4 時 22 分結束。

全對才給分 (1 分)

30



(a) 鐘面顯示的時間是 10 時 20 分。

全對才給分
(1 分)

(b) 25 分鐘後，鐘面顯示的時間會是

10 時 45 分。

全對才給分
(1 分)

31 根據下面的月曆，回答問題。

二月						
日	一	二	三	四	五	六
	1	2	3	4	5	6
7	8	9	10	11	12	13
14	15	16	17	18	19	20
21	22	23	24	25	26	27
28	29					

(a) 這年是 * 平年 / 閏年，全年共有 366 天。 (1 分)

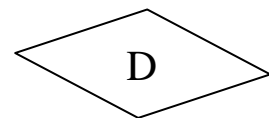
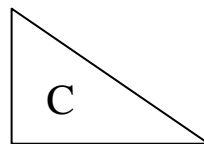
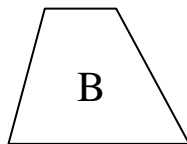
(* 圈出答案) 全對才給分

(b) 在 2 月 9 日開始，一連十天都是學校假期。假期的

最後一天是星期 四。


(1 分)

32 下圖中，哪個 / 些平面圖形有直角？寫出所有代表答案的英文字母。 (1 分)

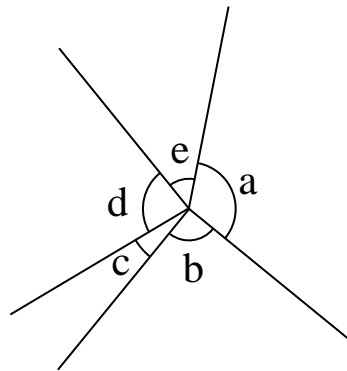


答案：A, C 全對才給分

- ③③ 在下圖中，沿虛線畫出一條直線，使它與直線 L 形成一個比直角大的角。(1 分)



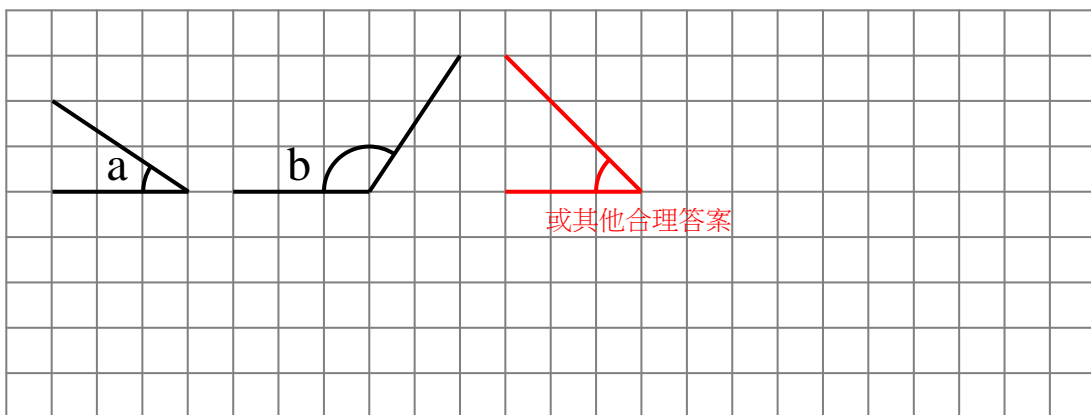
③④



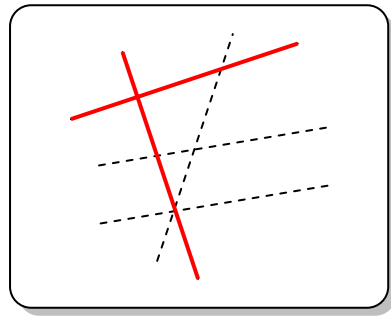
- (a) 上圖中，角 a 是鈍角。(1 分)
- (b) 把上圖中的 3 個銳角由小至大排列出來。(1 分)

答案：角 c，角 e，角 d 全對才給分
(最小) (最大)

- ③⑤ 在下面的方格紙上畫一個比角 a 大，又比角 b 小的角。(1 分)

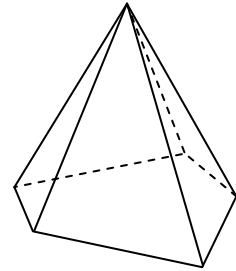


- ③⑥ 在右圖中沿着虛線畫出一組垂直線。



(1 分)

- ③⑦ (a) 這個立體圖形的底是 五邊 形，
它是一個 五角錐。全對才給分
(立體圖形的名稱)



(1 分)

- (b) 它共有 6 個面，

包括 1 個底和 5 個側面。全對才給分

(1 分)

- ③⑧ 有一個角柱，每個面的形狀都相同。

它的底和側面都是 四邊 形，

它是一個 四角柱。全對才給分

(1 分)

(立體圖形的名稱)

- ③⑨ 有一個角錐，每個面的形狀都相同。

它的底和側面都是 三角 形，

它是一個 三角錐。全對才給分

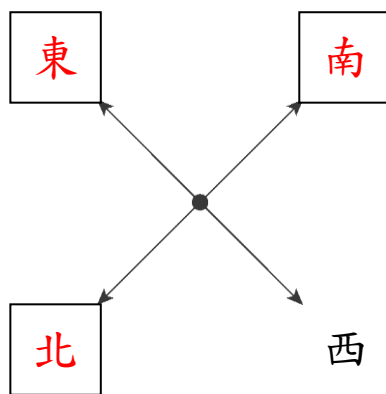
(1 分)

(立體圖形的名稱)

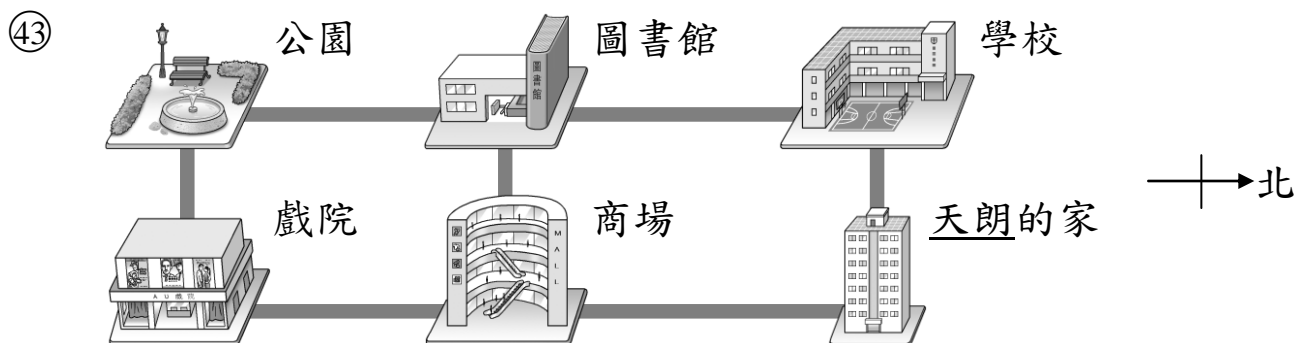
- ④⑩ 圓柱、圓錐及球各有 1 個曲面。

(1 分)

④1 在空格內填寫適當的方向。全對才給分 (1 分)



④2 子強面向東方，如果他想面向北方，他可以向右轉 3 個直角或向左轉 1 個直角。每個答案 1 分 (2 分)



(a) 學校在圖書館的 北 方。 (1 分)

(b) 商場在 圖書館 的東方。 (1 分)

(c) 天朗由家出發向 南 方走到戲院，然後向 西 方走，便可到達公園。全對才給分 (1 分)

— 全卷完 —

19TEST210.5T
19TEST210.5S